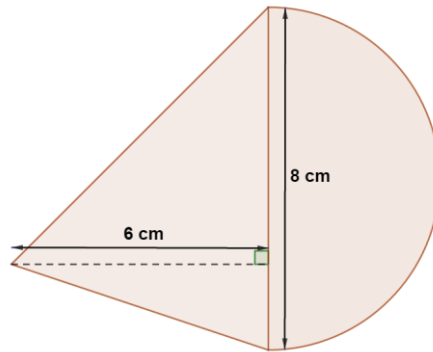
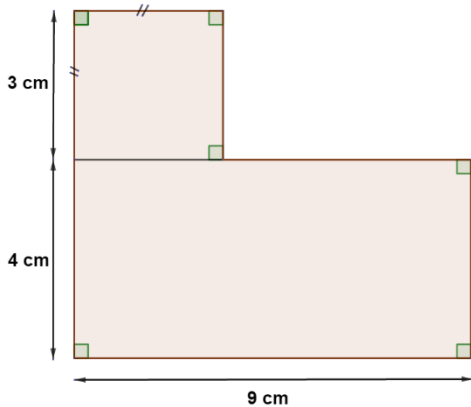


Séquence 11 : Aire d'une figure complexe

Fiche 4

Exercice 1 :

Calculer l'aire de chaque figure :



Exercice 2 :

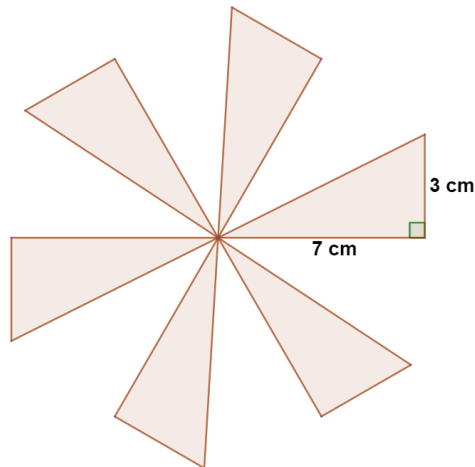
Calculer l'aire de la partie coloriée de la figure sachant que :

- le rectangle a pour longueur 12 cm et largeur 4 cm
- les côtés du carré mesurent 2 cm



Exercice 3 :

Calculer l'aire de cette figure sachant que tous les triangles sont identiques :



Exercice 4 :

Calculer l'aire de cette figure composée d'un carré de côté 6 cm et de quatre demi-disques :

