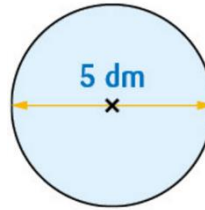
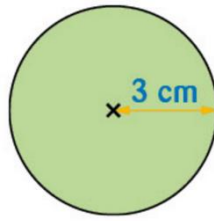
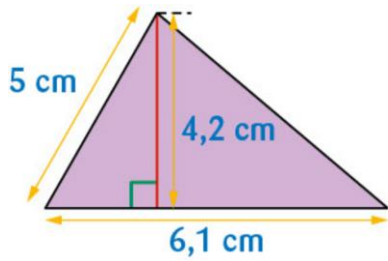


Séquence 11 : Aire d'une figure

Fiche 3

Exercice 1 :

Calculer l'aire des figures suivantes :

**Exercice 2 :**

- 1) Calculer l'aire d'un demi-disque de rayon 7 cm.
- 2) Calculer l'aire d'un quart de disque de diamètre 8 cm.